

„Heute gehen wir ins Museum“  
Deutsch im Museum für Schüler/innen an griechischen Gymnasien  
Niveaustufe A1/A2

## Materialien

### „Das Gold der Makedonen“

Archäologisches Museum Thessaloniki



## Aufgabenpaket B

**Namen der Gruppenmitglieder**

1. ....
2. ....
3. ....
4. ....

**Aufgabe 1**

Seht euch die Vitrinen 11-17 an. Welches Objekt gefällt euch am besten? Schreibt die Antwort von jedem Mitglied der Gruppe in die Karte und fotografiert oder zeichnet das Objekt. Das Foto könnt ihr in der Schule oder zu Hause ausdrucken und auf die Karte kleben.

Name: .....

Mir gefällt Objekt Nr. ....

in Vitrine Nr. ....

Da ist ein/eine

.....  
(Name des Objekts in Deutsch, Englisch oder Griechisch)

(Hier bitte ein Foto des Objekts oder eine Zeichnung)

Name: .....

Mir gefällt Objekt Nr. ....

in Vitrine Nr. ....

Da ist ein/eine

.....  
(Name des Objekts in Deutsch, Englisch oder Griechisch)

(Hier bitte ein Foto des Objekts oder eine Zeichnung)

Name: .....

Mir gefällt Objekt Nr. ....

in Vitrine Nr. ....

Da ist ein/eine

.....  
(Name des Objekts in Deutsch, Englisch oder Griechisch)

(Hier bitte ein Foto des Objekts oder eine Zeichnung)

Name: .....

Mir gefällt Objekt Nr. ....

in Vitrine Nr. ....

Da ist ein/eine

.....  
(Name des Objekts in Deutsch, Englisch oder Griechisch)

(Hier bitte ein Foto des Objekts oder eine Zeichnung)

**Aufgabe 2**

In Vitrine Nr. 23 ist das Objekt Nr. 4. Wie sieht so ein Objekt heute aus? Zeichnet es bitte hier:

**Aufgabe 3**

Seht euch die Objekte in Vitrine 26 an.

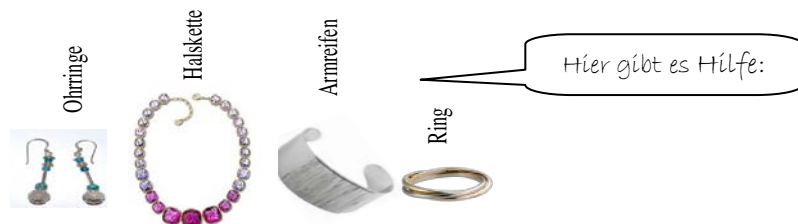
- a) Wofür brauchte man diese Gegenstände? Was glaubt ihr? Kreuzt an.
- b) Was braucht man heute dafür? Schreibt die Wörter auf Deutsch oder auf Griechisch in den Kasten.

- a) zum Kochen von Essen
- b) zur Produktion von Bier
- c) zum Kochen von Tee
- d) zum Servieren von Wein
- e) zum Backen von Brot
- f) zur Produktion von Käse

**Aufgabe 4**

Schaut euch die Objekte in den Vitrinen 21 bis 31 an. Was braucht eine Frau im antiken Griechenland für die Schönheit? Findet 5 Objekte und notiert die Namen der Objekte auf Deutsch, Englisch und Griechisch.

Vitr. Nr.	Objekt Nr.	Objekt auf Griechisch	Objekt auf Englisch	Objekt auf Deutsch




Aufgabe5

Woher kommen die Objekte auf den Bildern? Schreibt den Ort neben das Bild und zeichnet die Orte auf der Karte ein

Tip: Links von den Vitrinen gibt es eine Tafel mit einer Karte und dem Ort.



Vitr. 33 aus .....



Vitr. 35 aus .....



Vitr. 36 aus: .....



Vitr. 38 aus .....



Vitr. 50 aus .....

### Aufgabe6

Seht euch die Vitrinen 42 bis 45 an. Welche Tiere gibt es auf den Schmuckstücken? Notiert die Nummer der Vitrinen und die Nummer des Objekts.

Tier	Vitrine Nr. /Objekt Nr.
Löwe	
Delphin	
Ziege	
Schlange	

### Aufgabe7

In einigen Vitrinen gibt es Waffen und Kriegsausrüstung wie Helme, Schwerter, Beinschienen. An welche Sportarten erinnern sie euch?

		Das ist vielleicht heute:
Vitr.18 und 21	Objekt Nr. ....	
Vitrine 49, 52	Objekt Nr. ....	
Vitrine 21, 49, 52	Objekt Nr. ....	

*Diese Sportarten heißen so:*



Fechten



Rad fahren



Eishockey



Speer werfen



Fußball spielen



Klettern

## Aufgabe 8

Der Papyrus von Derveni (Vitrine 58) ist ca. 2500 Jahre alt. Er ist vielleicht das älteste „Buch“ in Europa. Archäologen haben diese Teile von Papyrusrollen in Derveni gefunden.



a) Zeichnet auf der Landkarte den Ort ein, woher der Papyrus ist.

b) Was steht in dem Text? Die Zeitschrift „Spektrum“ schreibt:


*„Der Papyrus stammt aus dem 5. Jahrhundert vor Christus und enthält Informationen über Feste und Zeremonien in jener Zeit. Zudem setzte sich der unbekannte Verfasser mit den in der griechischen Mythologie überlieferten Berichten des Orpheus in der Unterwelt auseinander und beschreibt die komplexen Vorstellungen über das Reich der Toten. In der antiken Sagenwelt stieg König Orpheus in die Unterwelt hinab um seine tote Geliebte Eurydike zurückzufordern. Seinerzeit war aus diesen Vorstellungen der mystische Kult des Orphismus entstanden.“*

Der Text gibt Informationen:

- zur Mythologie und über die Unterwelt
- zum Thema Reisen und Reiserouten im antiken Griechenland
- zu Warenlisten und Produkten von einem antiken Geschäft
- zu Therapien für Krankheiten

**Aufgabe9**

Der Krater von Derveni (Vitrine 48) ist ein sehr großer Weinkrug. Auf dem Krater sieht man den Weingott Dionysus, seine Freunde und viele Tiere. Wo sind die Tiere auf dem Krater?



Aufgabe 10

Ratespiel:



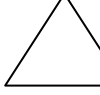

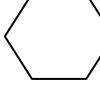







Ihr steht jetzt vor den Vitrinen im letzten Teil der Ausstellung mit den Nummern 59 bis 63. Einer von euch sucht sich einen Gegenstand aus, sagt ihn aber nicht.

Die anderen fragen und raten.

Frage nach:

- a) Größe
- b) Form
- c) Farbe
- d) Material
- e) Funktion
- f) Wert
- g) Gibt es das heute noch?

Bei den Fragen hilft euch diese Liste. Ihr müsst alle Fragen stellen, bevor ihr anfangt zu raten. Fragt der Reihe nach!

- a) Größe: groß mittelgroß klein
- b) Form:       
 viereckig runddreieckig oval sechseckig
- a. Material:       
 aus Glas aus Holz aus Leder aus Metall aus Ton
- b. Funktion: zum Essen/Trinken zum Transportieren  
 zur Körperpflege als Dekoration  
 zum Spielen als Kleidung  
 für religiöse Rituale .....
- c. Wert:teuer  billig 
- d. Farbe: grün blaugrau braun schwarz  
weiß orange golden silbern buntrot